

## Arm en rijk werkblad 2.2: Centrum, semi-periferie, periferie

Naam: \_\_\_\_\_

Datum: \_\_\_\_\_

Armoede is waarschijnlijk niet iets wat jij elke dag meemaakt. Wij wonen in Nederland en dat is over het algemeen een rijk land. Rijke landen op de wereld noemen we **centrum landen**. Arme landen op de wereld noemen we **periferie landen**, deze landen worden ook wel **ontwikkelingslanden** genoemd. De landen die daartussen vallen noemen we **semi-periferie**. Klik op [deze link](#) en bekijk het filmpje over het ontstaan van centrum en periferie.

1. Sleep de landen naar de juiste categorie. Ken je het land niet, zoek deze dan op via internet.

Nederland

Argentinië

Mali

Somalië

Canada

Marokko

Italië

Brazilië

**Centrum**

**Semi-periferie**

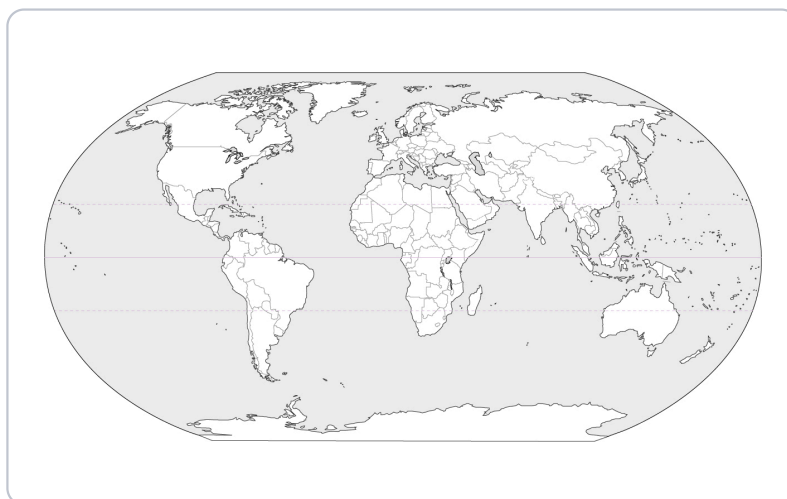
**Periferie**

In de aardrijkskunde kunnen we op verschillende schaalniveaus kijken naar gebieden. De schaalniveaus zijn als volgt:

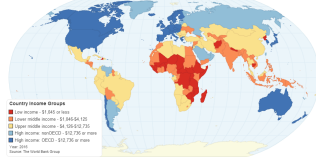
- **Wereldschaalniveau (mondiaal):** Heeft betrekking op de hele wereld.
- **Continentaal:** Binnen een continent, bijvoorbeeld in Europa.
- **Nationaal:** Binnen een land, bijvoorbeeld in Nederland.
- **Regionaal:** Binnen een regio, bijvoorbeeld in Twente.
- **Lokaal:** Binnen een stad of dorp, bijvoorbeeld in Almelo.

10

2. Je gaat de wereldkaart indelen in drie groepen: centrum, semi-periferie en periferie. Onderaan je kaart maak je een legenda.



3. Vergelijk je eigen kaart met de bijgevoegde kaart van gemiddeld inkomen per land. Wat valt je op?



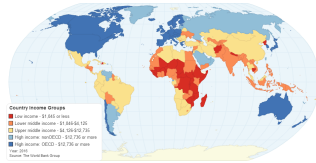
---

---

---

---

4. Gebruik de kaart over het gemiddeld inkomen per land. Deel de continenten in op niveau van inkomen.



Noord-Amerika

Zuid-Amerika

Europa

Afrika

Azië

Oceanië

Hoog inkomen

Midden inkomen

Laag inkomen

10

5. Je gaat de kaart van Europa indelen in drie groepen: centrum, semi-periferi en periferie. Onderaan je kaart maak je een legenda.



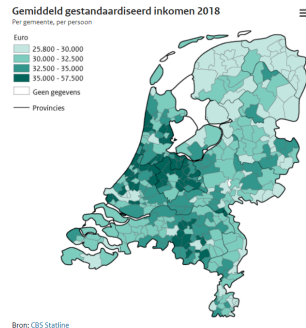
10

6. Je gaat de kaart van Nederland indelen in drie groepen: centrum, semi-periferi en periferie. Onderaan je kaart maak je een legenda.



10

7. Verklaar waarom het inkomen per inwoner in Zuid-Holland en Noord-Holland hoger is dan in Overijssel.




---



---



---



---

10

8. Je hebt nu in 3 kaarten op verschillende schaalniveaus een indeling gemaakt van centrum, semi-periferie en periferie. Waar heb je deze indeling op gebaseerd? Leg je antwoord uit.

---



---



---



---